



ESTUDO EM CASA – DISTANCIAMENTO SOCIAL – COVID 19
ATIVIDADES DE GEOMETRIA – 7º ANO A, B e C – 2 AULAS
25ª SEMANA: DE 05/10/2020 a 09/10/2020

Prof.ª LUCIENE RIBEIRO

Prof.ª KARINA APARECIDA MATIAS ALVES BERTELI

Orientações:

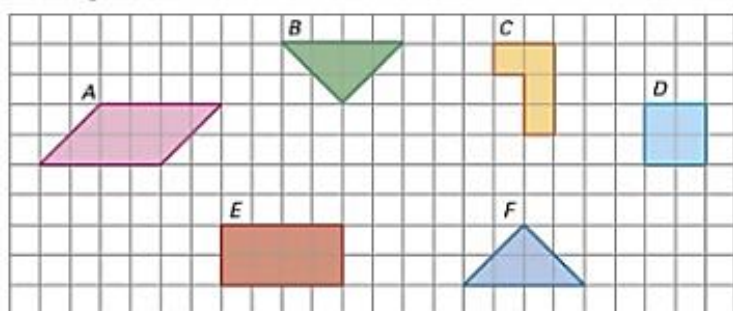
- O trabalho pode ser copiado ou impresso. Atenção sua resposta final deverá ser a caneta;
- Deve constar no trabalho **NOME, NÚMERO, SÉRIE “ANO” e NOME DA PROFESSORA, sob pena de não ser corrigido por falta de informações indispensáveis para a correção do mesmo;**
- O trabalho **DEVE SER ENTREGUE** até dia 13/10/2020 na escola;
- Ele irá compor a nota do 3º bimestre. E a não realização acarretará em dano considerável a nota do aluno.

TRABALHO DE GEOMETRIA (3º Bimestre)

NOME: _____ Nº _____ 7º ano _____

Professora: _____

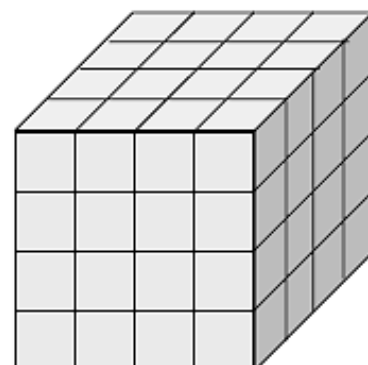
Atividade 1 – Identifique as figuras que possuem a mesma área.



Resposta:

Atividade 2 – O cubo abaixo foi montado com cubinhos de arestas medindo 1 cm. Quantos cubinhos foram necessários para montar o cubo grande?

- 16 cubinhos
- 64 cubinhos
- 32 cubinhos
- 12 cubinhos





PREFEITURA MUNICIPAL DE RIBEIRÃO CORRENTE
DEPARTAMENTO DE EDUCAÇÃO

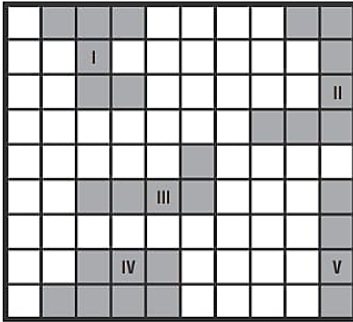
E.M.E.B. "JORNALISTA GRANDUQUE JOSÉ"

Rua Marechal Deodoro, 815 – Bairro Centro – Ribeirão Corrente - SP. CEP: 14445-000 - Fone: (16) 3749.1017

Ato de Criação: Lei Municipal Nº 986, de 20 de março de 2008

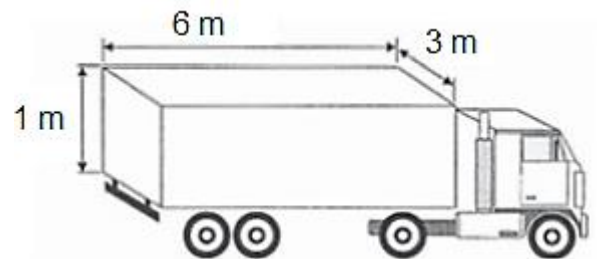
Email - granduquejose@educacao.sp.gov.br

Atividade 3 – Observe as figuras do quadro. Quais delas são equivalentes?



- a) Figuras II e IV
- b) Figuras III e IV
- c) Figuras I e II
- d) Figuras II e III

Atividade 4 – As medidas internas da carroceria de certo caminhão são de 1 metro de altura, 6 metros de comprimento e 3 metros de largura. Qual o volume desse caminhão?



Resposta: _____

Atividade 5 – Uma loja de material para construção irá transportar 378 m^3 de areia para construção de um imóvel. Ela utilizará **um** caminhão que possui a carroceria com as mesmas medidas do caminhão da atividade 4. Quantas viagens serão necessárias para transportar **toda** essa areia?

Resposta: _____

Bons estudos!